

VORNAME und NACHNAME
FIRST NAME and FAMILY NAME _____

STARTNUMMER
AUDITION NUMBER _____

MUK: Musikalisches Unterhaltungstheater Schriftlicher Musiktest 2020

1. Rhythmusdiktat: zwei Takte im 4/4-Takt.
Rhythmic dictation: two measures in 4/4 time.

2. Melodiediktat in F-Dur. Schreiben Sie ganze Noten ohne Taktstriche. Verwenden Sie Sopranschlüssel (G-Schlüssel).
Melodic dictation in F major. Write whole notes without barlines. Use the treble clef (G clef).

3. Lesen Sie folgende Melodie. Beantworten Sie die Fragen, um die Melodie zu beschreiben.
Read the following melody. Answer the questions in order to describe the melody.

In welcher Tonart steht die Melodie?
In which key signature is the melody written? _____


In welcher Taktart steht die Melodie?
In which time signature is the melody written? _____

Mit welcher Stufe beginnt die Melodie?
Verwenden Sie eine römische Ziffer, z.B. zweite Stufe = II.
With which scale degree does the melody begin?
Use a Roman numerals: for example, the second degree = II. _____


Kringeln Sie jede Note ein, die die fünfte Stufe der Tonleiter darstellt.
Circle each note which represents the fifth degree of the key.

4. Zeichnen Sie in jedem Takt eine Linie ein, wo je die zweite Takthälfte beginnt.

In each measure, draw a line to show where the second half of the measure begins.



5. Kringeln Sie im folgenden Beispiel die Synkopen ein.
Circle the syncopations in the following example.




6. Auf welcher Zählzeit ist die Triole im folgenden Beispiel?
On which beat is the triplet in the following example?



7. Fein-bestimmen Sie die folgenden Intervalle: z.B. große 3, kleine 2, reine 5, übermäßige 4, verminderte 3, usw.
Specifically identify the following intervals: for example, major 3, minor 2, perfect 5, augmented 4, diminished 3, etc.






8. Schreiben Sie einen D-Moll-Akkord in Grundstellung und seine zwei Umkehrungen auf. Verwenden Sie Sopranschlüssel (G-Schlüssel).
Notate a D minor chord and its two inversions. Use the treble clef (G clef).



9. Im folgenden Rhythmus ist ein Notenwert zu viel. Streichen Sie eine Note, damit der Takt stimmt.
In the following rhythm, there is one note value too much. Cross out one note to make the measure correct.



10. Schreiben Sie die Vorzeichen für folgende Tonarten. Sopranschlüssel (G-Schlüssel).
Notate the flats and sharps for the following key signatures. Use the treble clef (G clef).



G-Dur	As-Dur	H-Dur	A-Dur	F-Dur
<i>G major</i>	<i>Ab major</i>	<i>B major</i>	<i>A major</i>	<i>F major</i>

11. Wie heißen die Paralleltonarten zu den jeweiligen Dur-Tonarten bei Frage 10?
What are the relative minor keys of the major keys in question 10?



12. Definieren Sie die folgenden Begriffe.
Define the following terms.

fortissimo

cantabile

diminuendo

ritenuto

crescendo

alla breve

andante